

i **Forside**

Digital eksamen i anatomi, fysiologi og biokjemi

26. april 2023 kl.0900 - 1300

- Digital eksamen i anatomi, fysiologi og biokjemi er en individuell eksamen
 - Oppgavesettet inneholder 53 oppgaver fordelt på 21 tekstoppgaver og 32 flervalgsoppgaver
 - Du kan gå fram og tilbake mellom oppgavene i de timene du har til rådighet.
 - Du kan markere oppgaver du ønsker å gå tilbake til.
 - Du disponerer tiden selv
 - Det er ikke satt noen grense for hvor mye tid du kan bruke på den enkelte oppgaven
 - Det blir ikke gitt minuspoeng for feil svar
-
- Du kan velge **nynorsk** versjon via meny øverst til høyre (ikon med tre streker)

Klargjøring av termer og spørreord som brukes i oppgavene:

Hva, hvilken/ hvilket/ hvilke, nevnt, navngi: Oppramsing av faktorer som det spørres om uten nærmere begrunnelse

Hvor: Kan brukes i spørsmål som omhandler (anatomisk) plassering

Gi en definisjon av: Klarlegg meningen i et begrep eller uttrykk

Beskriv: Gjengi et tema eller et fenomen, for eksempel hvordan noe er bygget opp eller fungerer

Forklar: Vis forståelse av et tema eller et fenomen, for eksempel hvor og hvordan mekanismer eller prosesser foregår og hvorfor de inntreffer










Gjør rede for: Vis utdypende forståelse av og begrunn et tema eller et fenomen, for eksempel sammenheng mellom oppbygning og mekanismer og/eller prosesser


Lykke til!

1 Oppgave 1

Når i hjertesyklusen får myokard i ventriklene sin blodforsyning? (1 poeng)

Skriv ditt svar her

Format ▾ | **B** *I* U x_2 x^2 | I_x |   |    |   | Ω  |  | Σ |












Words: 0


Maks poeng: 1

2 Oppgave 2

Hvor starter koronararteriene? (1 poeng)

Skriv ditt svar her

Format | **B** | *I* | U | x_2 | x^2 | I_x |  |  |  |  |  |  |  | Ω |  |  | Σ |












Words: 0


Maks poeng: 1

3 Oppgave 3

Nevn, i riktig rekkefølge, hvilke typer blodårer som passerer når blodet går fra venstre til høyre hjertehalvdel. (2 poeng)

Skriv ditt svar her

Format | **B** | *I* | U | x_2 | x^2 | I_x |  |  |  |  |  |  |  | Ω |  |  | Σ |












Words: 0

Maks poeng: 2

4 Oppgave 4

Beskriv hvor i systemkretsløpet blodet er oksygenfattig. (1 poeng)

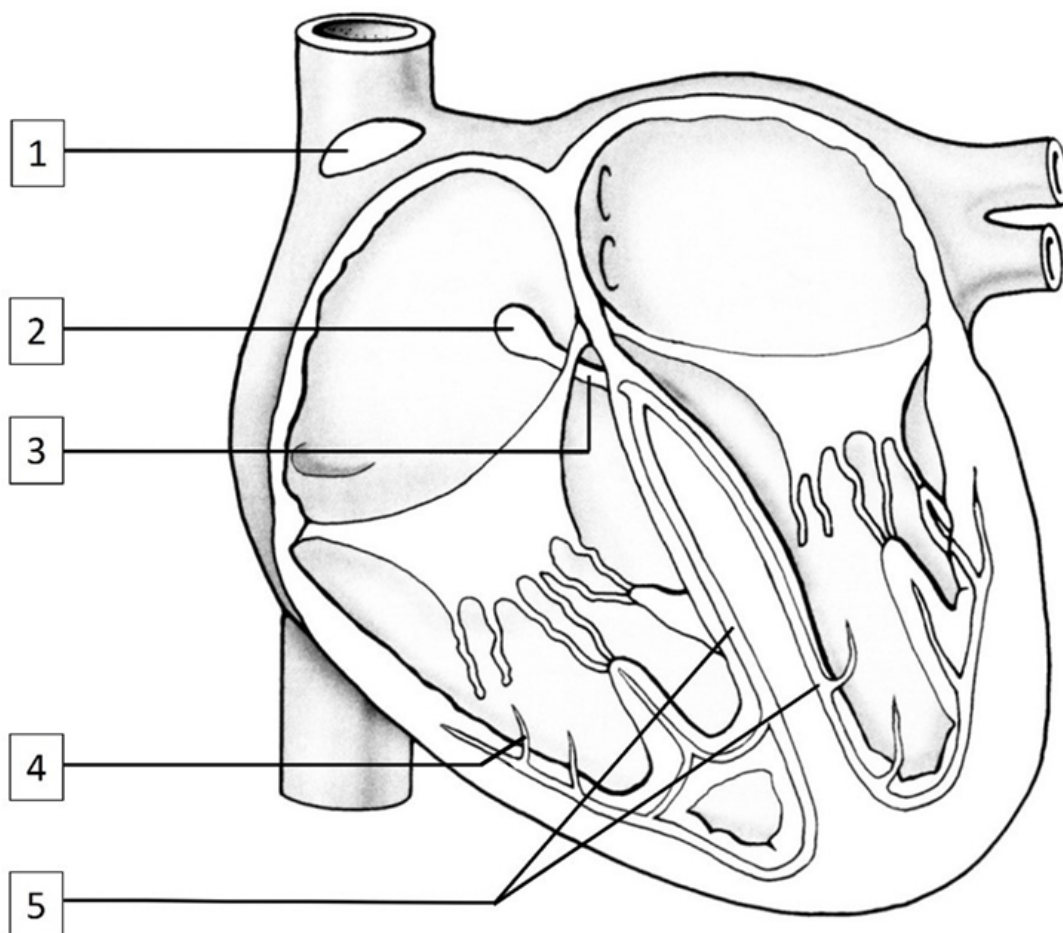
Skriv ditt svar her

Format | **B** | *I* | U | x_2 | x^2 | I_x |  |  |  |  |  |  |  | Ω |  |  | Σ |

Words: 0

Maks poeng: 1

5 Oppgave 5



Koble de ulike delene av hjertets elektriske ledningssystem til riktig tall (1-5). (2 poeng)

Finn de som passer sammen:

	1	2	3	4	5
Atrioventrikulærknuten/AV-knuten	<input type="radio"/>	<input type="radio"/>	<input type="radio"/>	<input type="radio"/>	<input type="radio"/>
His-bunt	<input type="radio"/>	<input type="radio"/>	<input type="radio"/>	<input type="radio"/>	<input type="radio"/>
Purkinjefibre	<input type="radio"/>	<input type="radio"/>	<input type="radio"/>	<input type="radio"/>	<input type="radio"/>
Høyre- og venstre ledningsgren	<input type="radio"/>	<input type="radio"/>	<input type="radio"/>	<input type="radio"/>	<input type="radio"/>










Maks poeng: 2


6 Oppgave 6

Hvilket plasmaprotein har størst betydning for væskefordelingen i kroppen?

Forklar også hva som skjer med væskefordelingen i kroppen dersom blodet inneholder for lite av dette plasmaproteinet. (3 poeng)

Skriv ditt svar her

Format ▾ | **B** *I* U x_2 x^2 | I_x |   |    |   | Ω  |  | Σ |











Words: 0


Maks poeng: 3

7 Oppgave 7

Forklar arteriolenes betydning for regulering av det arterielle blodtrykket. (3 poeng)

Skriv ditt svar her

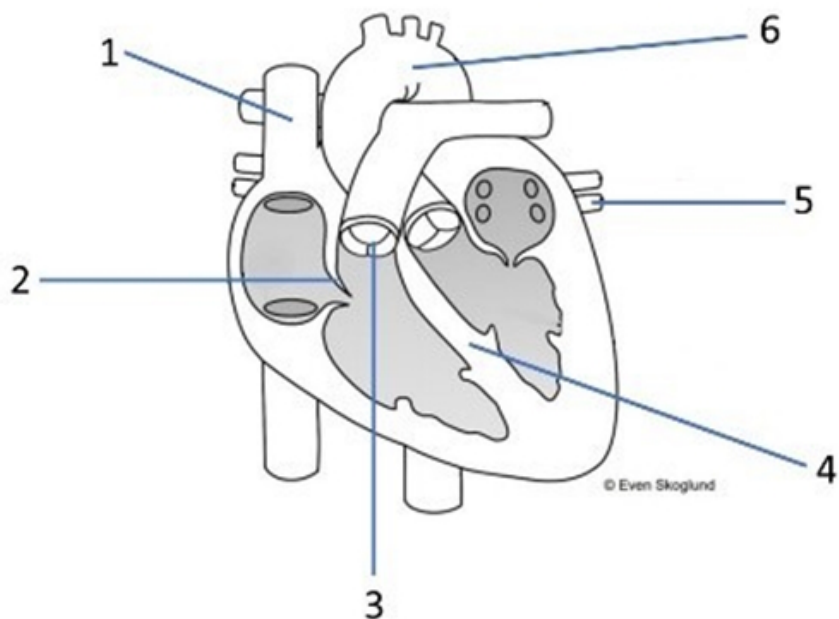
Format | **B** | *I* | U | x_2 | x^2 | I_x |  |  |  |  |  |  | Ω |  |  | Σ |



Words: 0

Maks poeng: 3

8 Oppgave 8



Hvilken av de anatomiske strukturene (1-6) hindrer at blodet strømmer i feil retning i systolen? (1 poeng)

Velg ett alternativ:









- 1
- 2
- 3
- 4
- 5
- 6

Maks poeng: 1

9 Oppgave 9

Nevn fire strukturer som avgrenser brystkassen/thorax. (2 poeng)

Skriv ditt svar her

Format | **B** | *I* | U | x_2 | x^2 | I_x |  |  |  |  |  |  | Ω |  |  | Σ |

Words: 0

Maks poeng: 2











Words: 0


Maks poeng: 2

11 Oppgave 11

Definer begrepet oksygenmetning. (1 poeng)

Skriv ditt svar her

Format ▾ | **B** *I* U x_2 x^2 | I_x |   |    |   |   |  |

Σ | 










Words: 0


Maks poeng: 1

12 Oppgave 12

Beskriv hvilke endringer i volum og trykk i brysthulen som oppstår når diafragma trekker seg sammen. (2 poeng)

Skriv ditt svar her

Format | **B** | *I* | U | x_2 | x^2 | I_x |  |  |  |  |  |  |  | Ω |  |  |

Σ | 

Words: 0

Maks poeng: 2

13 Oppgave 13

Fyll inn de manglende ordene i beskrivelsen av hvordan ventilasjonen reguleres.
(3 poeng)

Den rytmiske ventilasjonen er regulert fra respirasjonssenteret i (frontallappen,

mediastinum, medulla oblongata). Perifere kjemoreseptorer i (perifere tubuli, aortabuen, hjernestammen) registrerer $p\text{CO}_2$, H^+ og $p\text{O}_2$ i arterieblodet. Sentrale

kjemoreseptorer i (hypothalamus, hjernestammen, arteria carotis) registrerer

H^+ i ekstracellulærvæsken i hjernen som endres som følge av endring i ($p\text{O}_2$, HCO_3^- , $p\text{CO}_2$) i arterieblodet. Etter analyse i respirasjonssenteret sendes nerveimpulser i

(pleura, somatisk-motoriske nerveceller, lungealveoler) slik at ventilasjonen









økes eller reduseres. Ved normale forhold er (HCO_3^- , $p\text{CO}_2$, $p\text{O}_2$) viktigst for respirasjonsreguleringen.


Maks poeng: 3

14 Oppgave 14

Beskriv hva som menes med hypoventilering. (1 poeng)

Skriv ditt svar her

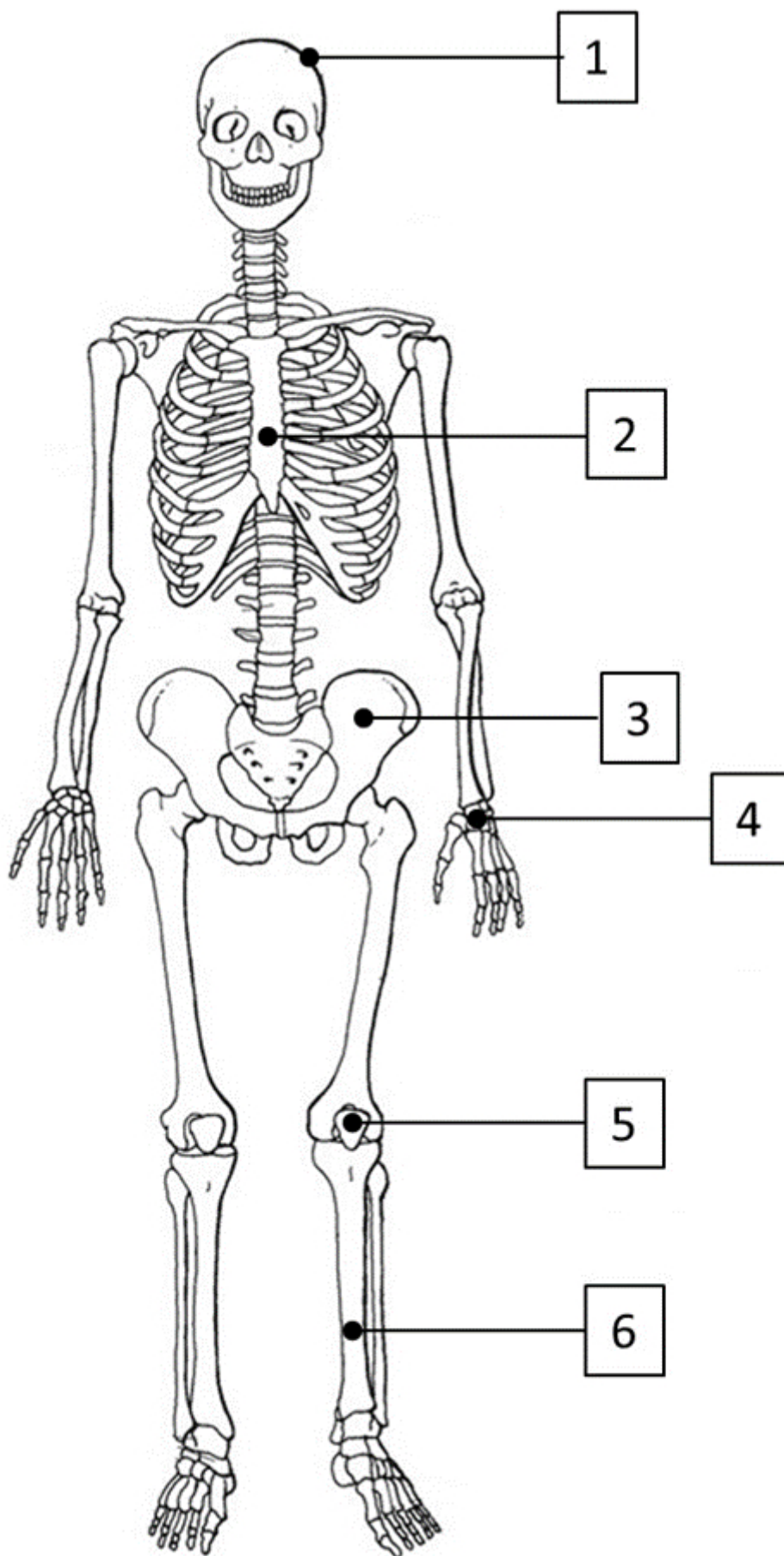
Format ▾ | **B** *I* U x_2 x^2 | I_x |   |   |   | Ω  |  |

Σ | 

Words: 0









Maks poeng: 1


15 Oppgave 15



Navngi de seks nummererte knoklene (1-6) på illustrasjonen som viser skjelettet sett forfra. Du kan velge om du vil bruke norske og/eller latinske navn. (3 poeng)

Skriv ditt svar her

Format ▾ | **B** *I* U x_2 x^2 | I_x |   |   |   | Ω   |

Σ | 

Words: 0

Maks poeng: 3

16 Oppgave 16**Hvor finnes det et synovialledd? (1 poeng)****Velg ett alternativ:**

- I hodeskallen
- I symfysen
- I kneet
- I håndroten

Maks poeng: 1

17 Oppgave 17

Hvor finnes det rød beinmarg hos voksne? (1 poeng)

Velg ett alternativ:

- I diafysen til rørknoklene
- I kompakt beinvev i rørknoklene
- Hovedsakelig i uregelmessige knokler
- Hovedsakelig i flate knokler

Maks poeng: 1

18 Oppgave 18

Hvor er musculus deltoideus plassert? (1 poeng)

Velg ett alternativ:

- På ytre og øvre del av setet
- På baksiden av låret
- På nedre del av magen
- På yttersiden av skulderleddet

Maks poeng: 1

19 Oppgave 19

Hvilken leddbevegelse fører kontraksjon av musculus gluteus medius til? (1 poeng)

Velg ett alternativ:











- Abduksjon i hofteleddet
- Abduksjon i skulderleddet
- Ekstensjon i kneleddet
- Fleksjon i albueleddet


Maks poeng: 1

20 Oppgave 20

Beskriv blod-hjernebarrieren sin oppbygning og funksjon. (5 poeng)

Skriv ditt svar her

Format ▾ | **B** *I* U x_2 x^2 | I_x |   |    |   |   |  |

Σ | 

Words: 0

Maks poeng: 5

21 Oppgave 21**Koble ulike sansereseptorer til aktuelle stimuli de reagerer på. (2 poeng)****Finn de som passer sammen:**

	Lys	Kulde	Strekk	pH
Fotoreseptor	<input type="radio"/>	<input type="radio"/>	<input type="radio"/>	<input type="radio"/>
Mekanoreseptor	<input type="radio"/>	<input type="radio"/>	<input type="radio"/>	<input type="radio"/>
Kjemoreseptor	<input type="radio"/>	<input type="radio"/>	<input type="radio"/>	<input type="radio"/>
Termoreseptor	<input type="radio"/>	<input type="radio"/>	<input type="radio"/>	<input type="radio"/>









Maks poeng: 2


22 Oppgave 22

Dersom du legger hånden din på en varm plate, vil du raskt trekke hånden til deg. Dette kalles en tilbaketrekningsrefleks (avvergerefleks).

Beskriv refleksbuen for denne refleksen. (5 poeng)

Skriv ditt svar her

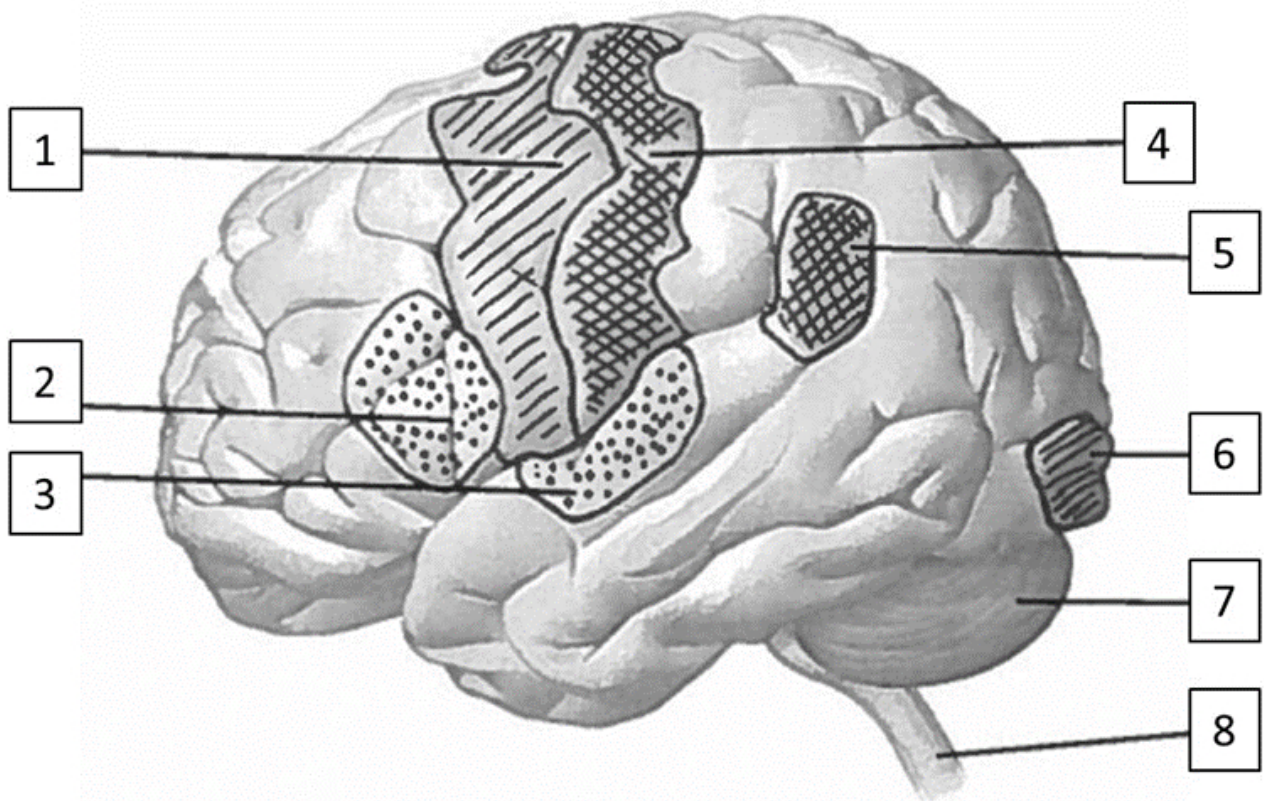
Format | **B** | *I* | U | x_2 | x^2 | I_x |  |  |  |  |  |  | Ω |  |  |

Σ |  |

Words: 0

Maks poeng: 5

23 Oppgave 23



Velg riktig plassering av hjerneområdene. (2 poeng)

Finnd de som passer sammen:

	1	2	3	4	5	6	7	8
Motorisk bark	<input type="radio"/>	<input type="radio"/>	<input type="radio"/>	<input type="radio"/>	<input type="radio"/>	<input type="radio"/>	<input type="radio"/>	<input type="radio"/>
Sensorisk bark	<input type="radio"/>	<input type="radio"/>	<input type="radio"/>	<input type="radio"/>	<input type="radio"/>	<input type="radio"/>	<input type="radio"/>	<input type="radio"/>
Hørselsbark	<input type="radio"/>	<input type="radio"/>	<input type="radio"/>	<input type="radio"/>	<input type="radio"/>	<input type="radio"/>	<input type="radio"/>	<input type="radio"/>
Synsbark	<input type="radio"/>	<input type="radio"/>	<input type="radio"/>	<input type="radio"/>	<input type="radio"/>	<input type="radio"/>	<input type="radio"/>	<input type="radio"/>

Maks poeng: 2

24 Oppgave 24

Hva skjer dersom du lyser på pupillen i høyre øye med en lykt? (1 poeng)

Velg ett alternativ:

- Den høyre pupillen blir mindre, og den venstre pupillen forblir uendret
- Den høyre pupillen blir mindre, og den venstre pupillen blir mindre
- Den høyre pupillen blir større, og den venstre pupillen forblir uendret
- Den høyre pupillen blir større, og den venstre pupillen blir større

Maks poeng: 1

25 Oppgave 25

Hvilken effekt har økt aktivitet i portceller i ryggmargen på smertesignaler til hjernen? (1 poeng)

Velg ett alternativ:

- Det øker hastigheten på nervesignalene fra nociseptorer i det perifere nervesystemet
- Det forsterker aksjonspotensialet fra umyeliniserte smertefibre
- Det senker terskelverdien for depolarisering av smertefibrer i ryggmargen
- Det har en hemmende effekt på den første synapsen i smertebanen

Maks poeng: 1

26 Oppgave 26

Hvilke mengder preurin og urin dannes normalt hos voksne? (2 poeng)

Finne de som passer sammen:

	Urin	Preurin
1500 ml (1,5 L) per døgn	<input type="radio"/>	<input type="radio"/>
125 ml per minutt	<input type="radio"/>	<input type="radio"/>
1 ml per kilo kroppsvekt per time	<input type="radio"/>	<input type="radio"/>
180 000 ml (180 L) per døgn	<input type="radio"/>	<input type="radio"/>

Maks poeng: 2

27 Oppgave 27











Koble sammen beskrivelser av funksjoner i nefronet og hvor det skjer. (1 poeng)


Finne de som passer sammen:

	Glomerulus	Proksimale tubulus	Distale tubulus
Mesteparten av reabsorpsjonen	<input type="radio"/>	<input type="radio"/>	<input type="radio"/>
Finregulert, hormonkontrollert reabsorpsjon	<input type="radio"/>	<input type="radio"/>	<input type="radio"/>
Filtrasjon fra blodet	<input type="radio"/>	<input type="radio"/>	<input type="radio"/>

Maks poeng: 1

28 Oppgave 28**Forklar hvordan hormonet aldosteron påvirker blodvolumet. (3 poeng)****Skriv ditt svar her**

Format ▾ | **B** *I* U x_2 x^2 | I_x |   |    |   |   |  |

Σ | 










Words: 0


Maks poeng: 3

29 Oppgave 29

Beskriv hvordan osmolariteten i plasma og vevsvæske påvirkes av å drikke rent vann. (1 poeng)

Skriv ditt svar her

Format | **B** | *I* | U | x_2 | x^2 | I_x |  |  |  |  |  |  |  | Ω |  | 

Σ | 

Words: 0

Maks poeng: 1

30 Oppgave 30

Hva skjer når konsentrasjonen av glukose i blodet er lavere enn nyreterskelen for glukose? (1 poeng)

Velg ett alternativ:

- All filtrert glukose reabsorberes til blodet
- Nyrenes kapasitet for reabsorpsjon av glukose overskrides
- Filtreringen av glukose i glomeruli øker
- Glukose sekreseres fra blod til samlerør

Maks poeng: 1

31 Oppgave 31

Hva kan konsentrasjonen av kreatinin i plasma si noe om? (1 poeng)

Velg ett alternativ:

- Nyrefiltrasjonen
- Ureasyklusen
- Reabsorpsjonen i nyrene
- Sekresjonen i nyrene

Maks poeng: 1

32 Oppgave 32

Merk av om utsagnene er riktige eller gale. (3 poeng)

Finn de som passer sammen:

	Riktig	Galt
Høy pH i en væske betyr at væsken er sur	<input type="radio"/>	<input type="radio"/>
Lav pH i en væske betyr overskudd av H ⁺ i væsken	<input type="radio"/>	<input type="radio"/>
7,35 - 7,45 er normal pH-verdi i blodplasma	<input type="radio"/>	<input type="radio"/>
Buffere i plasma binder overskudd av H ⁺ for å motvirke fall i pH	<input type="radio"/>	<input type="radio"/>
Økt ventilasjon og redusert pCO ₂ reduserer pH i plasma	<input type="radio"/>	<input type="radio"/>
Nyrene kan sekretere H ⁺ ved lav pH i plasma	<input type="radio"/>	<input type="radio"/>

Maks poeng: 3

33 Oppgave 33

Koble sammen betegnelse på de anatomiske strukturene på norsk og latin. (2 poeng)

Finn de som passer sammen:











	Vesica urinaria	Ureter	Urethra	Pelvis renalis
Urinblære	<input type="radio"/>	<input type="radio"/>	<input type="radio"/>	<input type="radio"/>
Nyrebekken	<input type="radio"/>	<input type="radio"/>	<input type="radio"/>	<input type="radio"/>
Urinleder	<input type="radio"/>	<input type="radio"/>	<input type="radio"/>	<input type="radio"/>
Urinrør	<input type="radio"/>	<input type="radio"/>	<input type="radio"/>	<input type="radio"/>


Maks poeng: 2

34 Oppgave 34

Beskriv hvor og hvordan proteiner brytes ned i fordøyelseskanalen. (3 poeng)

Skriv ditt svar her

Format ▾ | **B** *I* U x_2 x^2 | I_x |   |    |   |   |  |

Σ | 

Words: 0

Maks poeng: 3

35 Oppgave 35

Velg riktig rekkefølge på de ulike delene av tynntarmen. Start fra ventrikkelen. (1 poeng)

Velg ett alternativ:

- Duodenum, jejunum, ileum
- Duodenum, ileum, jejunum
- Ileum, duodenum, jejunum
- Jejunum, ileum og duodenum

Maks poeng: 1

36 Oppgave 36

Merk av riktig(e) funksjon(er) for de anatomiske strukturene nedenfor. (3 poeng)

Finne de som passer sammen:

	Bukspytt- kjertel	Tykkarm	Lever	Galleblære
Lagrer glykogen og fettstoffer	<input type="radio"/>	<input type="radio"/>	<input type="radio"/>	<input type="radio"/>
Skiller ut HCO_3^- , som nøytraliserer saltsyre fra ventrikkelen	<input type="radio"/>	<input type="radio"/>	<input type="radio"/>	<input type="radio"/>
Produserer galle som bidrar til emulgering av fettstoffer	<input type="radio"/>	<input type="radio"/>	<input type="radio"/>	<input type="radio"/>
Skiller ut amylase som spalter polysakkarider	<input type="radio"/>	<input type="radio"/>	<input type="radio"/>	<input type="radio"/>
Lagrer galle som tømmes ut ved fettrike måltider	<input type="radio"/>	<input type="radio"/>	<input type="radio"/>	<input type="radio"/>
Her foregår mesteparten av syntesen av K-vitaminer	<input type="radio"/>	<input type="radio"/>	<input type="radio"/>	<input type="radio"/>

Maks poeng: 3

37 Oppgave 37

Merk av om utsagnene om blodglukose er riktige eller gale. (2 poeng)

Finne de som passer sammen:

	Riktig	Galt
Kortisol bidrar til å redusere blodglukosen	<input type="radio"/>	<input type="radio"/>
Adrenalin og glukagon har samme effekt på blodglukosen	<input type="radio"/>	<input type="radio"/>
Insulin bidrar til å redusere blodglukosen	<input type="radio"/>	<input type="radio"/>
Glukagon bidrar til å øke blodglukosen	<input type="radio"/>	<input type="radio"/>

Maks poeng: 2

38 Oppgave 38

Hvilket utsagn om adrenalin er riktig? (1 poeng)

Velg ett alternativ:

- Adrenalin reduserer fettsyrekonsentrasjonen i blodet
- Adrenalin reduserer blodglukosen
- Adrenalin forsterker effekten av det parasympatiske nervesystemet
- Adrenalin øker hjertefrekvensen og hjertets slagvolum

Maks poeng: 1

39 Oppgave 39










Velg riktig plassering for skjoldkjertelen (thyreoidea). (1 poeng)


Velg ett alternativ:

- I hjernen
- På halsen
- I brystkassen
- I abdomen

Maks poeng: 1

40 Oppgave 40**Beskriv virkningen insulin har på lagring av glukose. (2 poeng)****Skriv ditt svar her**

Format ▾ | **B** *I* U x_2 x^2 | I_x |   |    |   | Ω   |

Σ | 

Words: 0

Maks poeng: 2

41 Oppgave 41

Hvilket utsagn om antistoffer er riktig? (1 poeng)

Velg ett alternativ:

- Antistoffer er proteiner som skilles ut fra T-celler og aktiverer B-celler
- Antistoffer skilles ut fra B-lymfocytter og deltar i immunresponsen
- Antistoffer skilles ut fra beinmargen og aktiverer immunsystemet
- Antistoffer er hormoner som aktiverer immunsystemet

Maks poeng: 1

42 Oppgave 42

Hva er effekten av hukommelsesceller? (1 poeng)

Velg ett alternativ:









- Gir rask bekjempelse av infeksjon
- Unngår smitte
- Forsterker barriereforsvaret
- Fører til feberstigning


Maks poeng: 1

43 Oppgave 43

Forklar hva som forårsaker rødme/rubor og varme/calor i det betente området ved en lokal inflammasjon i huden. (2 poeng)

Skriv ditt svar her

Format | **B** | *I* | U | x_2 | x^2 | I_x |  |  |  |  |  |  | Ω |  | 

Σ | 









Words: 0


Maks poeng: 2

44 Oppgave 44

Beskriv hovedoppgavene til immunsystemet. (3 poeng)

Skriv ditt svar her

Format ▾ | **B** *I* U x_2 x^2 | I_x |   |   |   | Ω   |

Σ | 

Words: 0

Maks poeng: 3

45 **Oppgave 45**

Koble sammen hendelser ved feber med at mengden pyrogener øker eller avtar. (4 poeng)

Finne de som passer sammen:

	Ved økt pyrogen- påvirkning	Ved redusert pyrogen- påvirkning
Hypotalamus øker termostatverdien	<input type="radio"/>	<input type="radio"/>
Skjelving	<input type="radio"/>	<input type="radio"/>
Stimulering av svettekjertler i huden	<input type="radio"/>	<input type="radio"/>
Dilatasjon av blodkar i huden	<input type="radio"/>	<input type="radio"/>
Kontraksjon av blodkar i huden	<input type="radio"/>	<input type="radio"/>
Blek hud	<input type="radio"/>	<input type="radio"/>
Svett og klam hud	<input type="radio"/>	<input type="radio"/>
Temperatur reduseres	<input type="radio"/>	<input type="radio"/>

Maks poeng: 4

46 **Oppgave 46**

Koble sammen anatomisk struktur med riktig funksjon. (2 poeng)

Finn de som passer sammen:

	Prostata	Sædledere	Bitestikler	Testikler
Lagring og modning av sædceller	<input type="radio"/>	<input type="radio"/>	<input type="radio"/>	<input type="radio"/>
Sædcelleproduksjon og testosteronutskillelse	<input type="radio"/>	<input type="radio"/>	<input type="radio"/>	<input type="radio"/>
Transport av sædceller ved sæduttømming	<input type="radio"/>	<input type="radio"/>	<input type="radio"/>	<input type="radio"/>
Produksjon av sekret som bidrar til å stimulere sædcellenes bevegelser	<input type="radio"/>	<input type="radio"/>	<input type="radio"/>	<input type="radio"/>

Maks poeng: 2

47 **Oppgave 47**

Merk av om utsagnene om virkninger av hormoner er riktige eller gale. (1 poeng)

Finn de som passer sammen:

	Riktig	Galt
FSH bidrar til modning av egg, økt østrogenutskillelse og til produksjon og modning av sædceller	<input type="radio"/>	<input type="radio"/>
Progesteron gjør slimet i livmorhalsen/cervikalkanalen tynnere	<input type="radio"/>	<input type="radio"/>

Maks poeng: 1

48 Oppgave 48

Hvilket utsagn om spermatogonier (stamceller) og sædceller er riktig? (1 poeng)

Velg ett alternativ:

- En moden sædcelle inneholder 46 kromosomer.
- Spermatogonier gjennomgår en mitose for å kunne danne modne befruktningsdyktige sædceller.
- En moden sædcelle inneholder et «hode» med cellekjerne og en «hale» som kan bevege seg.
- Spermatogonier i testiklene inneholder 23 kromosomer.

Maks poeng: 1

49 Oppgave 49

Merk av om utsagnene er riktige eller gale. (2 poeng)

Finn de som passer sammen:










	Riktig	Galt
Proximale tubulus er plassert rett før nyrebekkenet	<input type="radio"/>	<input type="radio"/>
Lateralt betyr plassering vekk fra midtlinjen i kroppen, mot siden	<input type="radio"/>	<input type="radio"/>
Colon transversum er plassert superiort for uterus	<input type="radio"/>	<input type="radio"/>
Lumbalvirvlene er plassert ventralt for urinblæren	<input type="radio"/>	<input type="radio"/>


Maks poeng: 2

50 Oppgave 50

Beskriv glukosemetabolisme i en celle ved fravær av oksygen (anaerob metabolisme). (3 poeng)

Skriv ditt svar her

Format | **B** | *I* | U | x_2 | x^2 | I_x |  |  |  |  |  |  |  | Ω |  |  |

Σ | 

Words: 0

Maks poeng: 3

51 Oppgave 51

Hva kalles cellene som har en viktig støttefunksjon for nervecellene i nervevevet? (1 poeng)

Velg ett alternativ:

- Myocytter
- Adipocytter
- Gliaceller
- Stamceller

Maks poeng: 1

52 Oppgave 52

Hva kalles en gruppe av epitelceller som har utførselsgang til en kroppsoverflate? (1 poeng)

Velg ett alternativ:

- Eksokrin kjertel
- Enlaget plateepitel
- Flerlaget plateepitel
- Endokrin kjertel

Maks poeng: 1

53 Oppgave 53**Koble de ulike strukturene med det riktige hudlaget. (3 poeng)****Finn de som passer sammen:**

	Epidermis	Dermis	Subcutis
Fettvev	<input type="radio"/>	<input type="radio"/>	<input type="radio"/>
Sanseresseptorer	<input type="radio"/>	<input type="radio"/>	<input type="radio"/>
Hornlag	<input type="radio"/>	<input type="radio"/>	<input type="radio"/>
Talgkjertler	<input type="radio"/>	<input type="radio"/>	<input type="radio"/>
Melanocytter	<input type="radio"/>	<input type="radio"/>	<input type="radio"/>
Keratinocytter	<input type="radio"/>	<input type="radio"/>	<input type="radio"/>

Maks poeng: 3